

.....
Ağaçlar yaşamımız için son derece önemlidir. Soluduğumuz havayı ağaçlar temizler. Kâğıt ve birçok eşyanın yapımında ağaçlar kullanılır. Yediğimiz meyvelerin çoğu ağaçlarda yetişir. Ayrıca ağaçlar birçok hayvan için barınaktır.



Maalesef geçtiğimiz yaz aylarında ülkemizin bazı illerinde orman yangınları çıktı. Televizyon ekranlarından yangınları izlerken hepimiz çok üzüldük. Milletimiz canı pahasına yangınlarla mücadele etti. Can Azerbaycan'dan kardeşlerimiz yardımımıza koştu ve yangınlar kısa sürede söndürüldü.

Hasan YILDIRIM

(1-5. soruları metne göre cevaplayınız.)

- 1) Metinde ağaçların önemi ile ilgili hangi bilgi yoktur?
- A) Eşya yapımında kullanılır.
B) Hayvanlar için barınaktır.
C) Toprak kaymasını önler.

- 2) Ülkemizin bazı illerindeki orman yangınları ne zaman çıkmıştır?
- A) Geçtiğimiz yaz aylarında
B) Geçtiğimiz yıl içinde
C) Geçtiğimiz günlerde
- 3) Orman yangınları ile mücadelede hangi ülke yardımımıza koşmuştur?
- A) Afganistan
B) Azerbaycan
C) Suriye
- 4) Metin ile ilgili verilen bilgilerden hangisi doğrudur?
- A) Metnin türü düz yazıdır.
B) Metin 3 paragraftan oluşmuştur.
C) Yazarı Hayrettin Karaca'dır.
- 5) Aşağıdakilerden hangisi metin için uygun bir başlık olabilir?
- A) Ormanın Kralı
B) Orman Yangınları
C) Azerbaycan Ormanları

6)

| | | |
|------------|----------|--------|
| Hava | Mücadele | Yaz |
| Televizyon | Barınak | Eşya |
| Orman | Türkiye | Kardeş |
| Millet | İtfaiye | Kâğıt |

Tahtada yazılı sözcükler ile ilgili hangi ifade doğrudur?

- A) Tahtada 13 sözcük vardır.
 B) Beş harfli 2 sözcük vardır.
 C) İki heceli 5 sözcük vardır.

7)

| | | |
|-------|-------|----|
| Siyah | Beyaz | Ak |
| Büyük | | |
| Genç | | |

Hangisi yukarıda boş bırakılan kutucuklara yazılması gereken sözcüklerden biri değildir?

- A) Ufak B) Yaşlı C) İri

8)

Yolculuk, bilet, tatil, mola

Yukarıdaki sözcükler hangi görsele ait çağrışımlardır?

A)



B)



C)



9)



Yangında zarar gören insanlar için yardım malzemesi gönde() riliyordu() Annem babama "Biz de bir şeyler gönderelim mi()" diye sordu()

Yukarıdaki paragrafta yay ayraç () ile belirtilen yerlere sırası ile hangi noktalama işaretleri yazılmalıdır?

- A) (-) (-) (?) (.)
 B) (,) (-) (.) (?)
 C) (-) (.) (?) (.)

10) Hangi çocuğun cümlesinde yazım yanlışı yapılmamıştır?

A)



Arkadaşlar okulu özledinizmi?

B)



Arkadaşlarımı çok özledim.

C)



Yaşasın, Okul açılıyor!

- 11) İki basamaklı en küçük sayı ile 3 birlik ve 4 onluktan oluşan sayının toplamı kaçtır?

A) 43 B) 44 C) 53

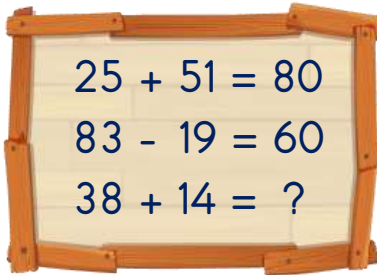
- 12) Elif, ağabeyi Yusuf'tan 3 yaş küçüktür.



Elif 9 yıl sonra 17 yaşında olacağına göre ağabeyi Yusuf'un 5 yıl önceki yaşı kaçtır?

A) 6 B) 8 C) 10

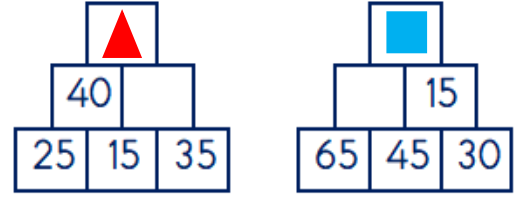
13)



Yukarıda verilen işlemlere göre soru işareti ile belirtilen yere hangi sayı gelmelidir?

A) 50 B) 52 C) 60

14)



Yukarıda verilen işlem piramitlerine göre “ - ” işleminin sonucu kaçtır?

A) 65 B) 75 C) 85

15)

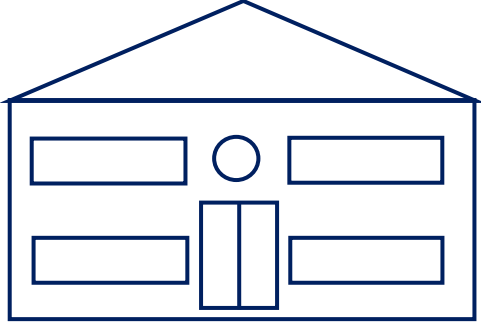


Ahmet kovayı 3 sürahi su ile doldurmuştur. Varil için ise 5 kova su gerekmektedir.

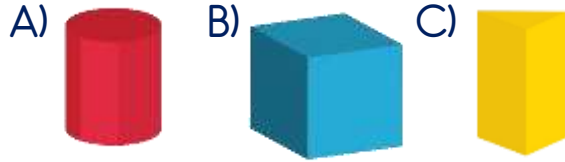
Boş varili sürahi ile doldurmak isteyen Ahmet'in kaç sürahi suya ihtiyacı vardır?

A) 8 B) 15 C) 21

16)



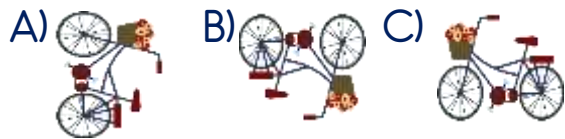
Yukarıdaki okulun çiziminde hangi cismin yüzeyi kullanılmamıştır?



17)



Yukarıdaki bisikletin simetri çizgisine göre simetriği hangi seçenekte verilmiştir?



18) Babam her gün evimize 3 ekmek alıyor.



Ekmeğin tanesi 2 lira olduğuna göre 3 günlük ekmek masrafımız kaç liradır?

A) 6 B) 8 C) 18

19)



Yukarıda verilen elmalar aşağıdakilerden hangisine eşit değildir?

A) 4 bütün elma
B) 7 yarım elma
C) 14 çeyrek elma

20) Melisa 1 saatte 3 sayfa test çözmektedir.



Verilen bilgiye göre Melisa 18 sayfa testi kaç saatte çözer?

A) 3 B) 6 C) 9



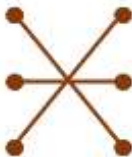
- 21) () Bireysel farklılıklara saygı duymalıyız.
 () Çantamızı ders programına göre hazırlamalıyız.
 () Arkadaşlarımızla görev paylaşımı yaparken adaletsiz olmalıyız.
 () Kaynakları özenli kullanırsak israf etmiş oluruz.

Yukarıdaki ifadelerden doğru olanlara "D", yanlış olanlara "Y" nasıl yazılmalıdır?

- A) (D) B) (D) C) (D)
 (D) (D) (D)
 (Y) (D) (Y)
 (Y) (Y) (D)

- 22) Annemin kız kardeşi • • Hala
 Amcamın eşi • • Teyze
 Babamın kız kardeşi • • Yenge

Akrabalarımız ile ilgili verilenler nasıl eşleştirilmelidir?

- A)  B)  C) 

- 23) ▲ Dengeli ve düzenli beslenmek
 ■ Terliken soğuk su içmek
 ● Sık sık çikolata yemek
 ◆ Dişlerimizi fırçalamak

Yukarıdakilerden hangisini veya hangilerini sağlıklı büyümek ve gelişmek için yapmalıyız?

- A) Yalnız ■
 B) ▲ ve ◆
 C) ▲, ● ve ◆



Sağlığımıza yararlı yiyecekler yeşile, sağlığımıza zararlı yiyecekler kırmızıya nasıl boyanmalıdır?

- A)

| | | | |
|---|---|---|---|
| K | Y | K | Y |
| Y | K | Y | K |

 B)

| | | | |
|---|---|---|---|
| K | Y | K | Y |
| Y | K | K | Y |

 C)

| | | | |
|---|---|---|---|
| K | Y | Y | Y |
| K | Y | K | Y |


25)



Görseldeki ulaşım araçları ile ilgili verilen ifadelerden hangisi doğrudur?

- A) 1. aracı pilot kullanır.
- B) 2. ve 3. araç hava yolu aracıdır.
- C) 1, 2 ve 3. araç ulaşım aracıdır.

26) Yapılan düzenleme ile acil durum numaraları tek numara da toplanmıştır.



Verilen bilgiye göre şemada soru işareti (?) ile belirtilen yere hangi numara gelmelidir?

- A) 112 B) 122 C) 155

27) Hangi millî bayramımızı okulların kapalı olduğu yaz tatili döneminde kutlarız?

- A) Cumhuriyet Bayramı
- B) Zafer Bayramı
- C) Ulusal Egemenlik ve Çocuk Bayramı

28)



Ülkemizde farklı kültürlerden insanlar yaşamaktadır. Bu insanların giyimleri, dilleri, aile yapıları, düşünce yapıları, yaşam biçimleri bizden farklı olabilir. Bu farklılıklardan dolayı onlara saygılı olmalıyız.

Yukarıdaki parça 2. sınıfta işlenmiş olduğumuz hangi konu ile ilgilidir?

- A) Kültürel Mirasımız
- B) Ülkemize Göç Edenler
- C) Ülkemizin Yeri

29) Hangisi sel, çığ, heyelan ve hortunun zararlarına karşı alınabilecek bir önlemdir?

- A) Ağaç dikmek
- B) Dik yamaçları teraslandırmak
- C) Baraj yapmak

30) Hangisi Dünya'mızın hareketlerinden biri değildir?

- A) Ay'ın etrafında dolanması
- B) Güneş'in etrafında dolanması
- C) Kendi etrafında dönmesi

Cevap Anahtarı

1-C 2-A 3-B 4-A 5-B 6-B 7-C 8-A 9-C 10-B 11-C 12-A 13-A 14-C 15-B 16-B 17-C
18-C 19-A 20-B 21-A 22-B 23-B 24-C 25-C 26-A 27-B 28-B 29-A 30-A